


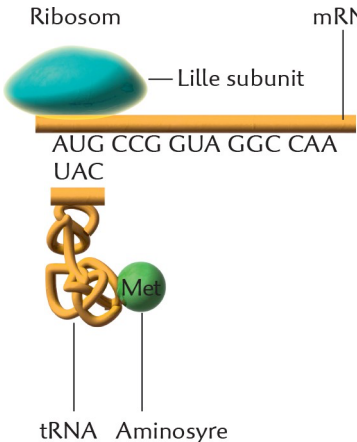
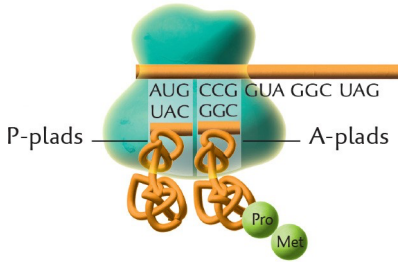


Opgave

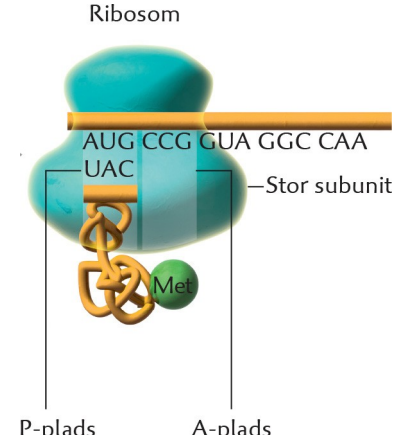
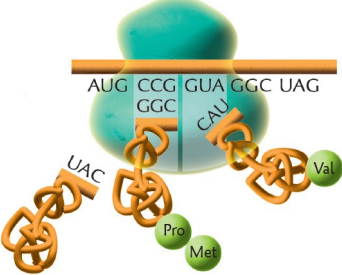
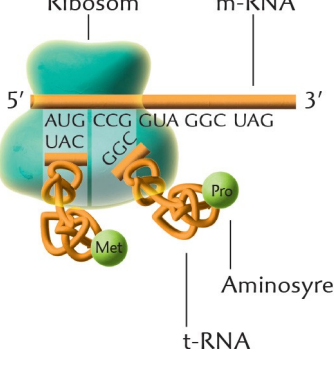
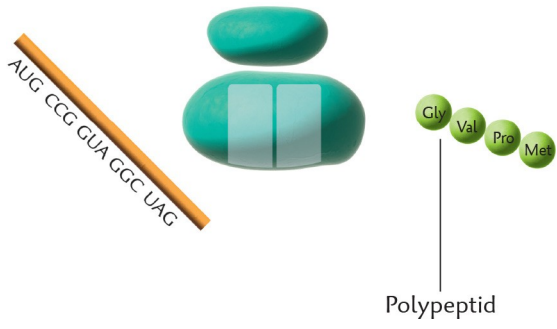
Translation – mRNA's oversættelse til protein

Baseret på siderne 114-116

Skiv numre og titler på billederne så de står i den rigtige rækkefølge. Beskriv ved hver figur hvad der sker.

Figurnr. og titel	Figur	Hvad sker der på denne figur?
		
	<p>Ribosom mRNA</p> <p>Lille subunit</p> <p>AUG CCG GUA GGC CAA</p> <p>UAC</p> <p>tRNA Aminosyre</p> <p>Met</p> 	
		



Figurnr. og titel	Figur	Hvad sker der på denne figur?
	 <p>Ribosom</p> <p>AUG CCG GUA GGC CAA</p> <p>UAC</p> <p>Met</p> <p>—Stor subunit</p> <p>P-plads A-plads</p>	
	 <p>AUG CCG GUA GGC UAG</p> <p>GGC</p> <p>CAU</p> <p>UAC</p> <p>Val</p> <p>Pro</p> <p>Met</p>	
	 <p>Ribosom</p> <p>m-RNA</p> <p>5' 3'</p> <p>AUG CCG GUA GGC UAG</p> <p>UAC</p> <p>GGC</p> <p>Pro</p> <p>Met</p> <p>Aminosyre</p> <p>t-RNA</p>	
	 <p>AUG CCG GUA GGC UAG</p> <p>Gly</p> <p>Val</p> <p>Pro</p> <p>Met</p> <p>Polypeptid</p>	